

第 3 時 限 問 題

社 会

検査時間 11時05分から11時45分まで

「解答始め」という指示があるまで、次の注意をよく読みなさい。

注 意


- (1) 解答用紙は、この問題用紙とは別になっています。
- (2) 「解答始め」という指示で、すぐ受験番号をこの表紙と解答用紙の決められた欄に書きなさい。
- (3) 問題は(1)ページから(8)ページまであります。表紙の裏と(8)ページの次からは白紙になっています。受験番号を記入したあと、問題の各ページを確かめ、不備のある場合は手をあげて申し出なさい。
- (4) 答えは全て解答用紙の決められた欄に書きなさい。
- (5) 印刷の文字が不鮮明なときは、手をあげて質問してもよろしい。
- (6) 「解答やめ」という指示で、書くことをやめ、解答用紙と問題用紙を別々にして机の上に置きなさい。

受験番号	第	番	氏 名	
------	---	---	-----	--


社 会

1 次のⅠ、Ⅱ、Ⅲの写真を見てあとの(1)~(3)の問いに答えなさい。


Ⅰ



Ⅱ



Ⅲ



(1) Ⅰの写真は、19世紀初めに民間出身の伊能忠敬が現在の飛島村に測量にきたときの跡地である。この人物が活躍した年代とほぼ同じ時代の文化について述べた文として最も適切なものを次のア~エの中から1つ選んで、そのかな符号を書きなさい。

- ア 文化の中心が上方から江戸に移り、庶民をにない手として発展した化政文化が生まれた。
- イ 都市の繁栄を背景に、経済力をもった町人をにない手とする元禄文化が生まれた。
- ウ 金閣に代表されるように、貴族と武士の文化を合わせた北山文化が生まれた。
- エ 貴族が唐風の文化をふまえながらも、日本にあった国風文化を生み出した。

(2) Ⅱの写真は、蟹江出身で新撰組の一員として活躍した佐野七五三之助^{きのしめのすけ}の墓である。この人物が活躍した時代は、江戸幕府が滅亡へと向かう時代であった。この時期に起こったできごとについて述べたア~エについて、順番に並べたときに三番目にくるできごととして、最も適切なものを次のア~エの中から1つ選んで、そのかな符号を書きなさい。

- ア 薩摩藩士が横浜近郊で、行列を横切ったイギリス人を殺害する生麦事件がおきた。
- イ 坂本竜馬の仲介により薩長同盟が結ばれた。
- ウ 徳川慶喜は政権を朝廷に返還した。
- エ 井伊直弼が江戸城外の桜田門外の変で水戸藩の元藩士に暗殺された。

(3) Ⅲの写真は、織田信長が生まれたと言われている愛西市の勝幡城址である。次の資料はこの人物がおこなった経済政策について生徒がまとめたものである。(A)・(B)にあてはまることばの組み合わせとして最も適切なものを、下のア~エの中から1つ選んで、そのかな符号を書きなさい。

【資料】

織田信長は滋賀県に安土城を築きました。城下町には(A)の政策によって商人を招き、(B)や各地の関所を廃止し、自由な商工業の発展を図りました。

- ア A 楽市・楽座 B 株仲間 イ A 楽市・楽座 B 座
- ウ A 徳政令 B 株仲間 エ A 徳政令 B 座

2 次のI, II, III, IVの文を読んで、あとの(1)~(4)の問いに答えなさい。

I	①桓武天皇は、新しい都で政治を立て直そうとして、784年に長岡京に移し、次いで794年に平安京に都を移した。
II	15世紀はじめに、中山の王になった尚氏は、北山、南山の勢力を滅ぼして沖縄島を統一し、首里を都とする②琉球王国を建てた。
III	イギリスは、1840年に③アヘン戦争と呼ばれる戦争を中国の清に対しておこし勝利した。
IV	日本は、④日露戦争において、1905年の日本海海戦で勝利したことを機に、ポーツマス条約で講和することができた。

(1) 次の資料は①桓武天皇の時代の東北地方の蝦夷についてまとめたものである。文章中の()にあてはまることばを、漢字5文字で書きなさい。

8世紀末から9世紀にかけて、朝廷は、支配に従おうとしない東北地方の蝦夷に対してたびたび大軍を送り、特に()という役職に任命された坂上田村麻呂の働きもあって、その勢力を広げました。

(2) ②琉球王国を建てた時期とほぼ同じ時期のできごとについて述べた文として最も適切なものを、次のア~エの中から1つ選んで、そのかな符号を書きなさい。

- ア 交易に不満をもったアイヌの人々は、首長のコシャミンを中心に戦いを起こし、和人を苦しめたが、敗れた。
- イ 遣唐使とともに唐に渡った最澄と空海は仏教の新しい教えを日本に伝えた。
- ウ 徳川家光は朱印船貿易を停止して、日本人の出国と帰国を一切禁止した。
- エ 明治政府は琉球藩を廃止して沖縄県を設置した。

(3) ③アヘン戦争の影響について述べた文として最も適切なものを、次のア~エの中から1つ選んで、そのかな符号を書きなさい。

- ア 清は外国に対して港を閉鎖するなどますます閉鎖的な姿勢をとった。
- イ 清が果敢にイギリスと戦ったことはすぐに日本に伝わり、江戸幕府は警戒を弱めた。
- ウ イギリスはアヘン戦争後の条約では自由な貿易をすることをまったく認められなかった。
- エ 清が戦費や賠償金をまかなうために重税を課したことにより、太平天国の乱がおきた。

(4) 次の文章は、生徒たちが④日露戦争について話し合ったときの会話の一部である。文章中にあてはまる国名・人物名として最も適切なものを、下のア~エの中から1つ選んで、そのかな符号を書きなさい。

Aさん「日露戦争は右の風刺画の(A)の国と同盟を結んだことが始まったきっかけの一つです。」


Bさん「ほとんどの新聞が開戦を主張したそうです。反対した人たちはいなかったのかな？」

Cさん「いいえ、幸徳秋水や内村鑑三も反対したし、女性では(B)が「君死にたまふことなかれ」という詩を発表して反対したそうです。」

Dさん「日露戦争は風刺画(C)の国の仲介で日本とロシアとの間でポーツマス条約が結ばれたそうです。」

Aさん「戦争はなんとか勝ったけれど、賠償金が取れずに東京で暴動になってしまった。」


Bさん「その後、日本は帝国主義国の一員になったという大国意識が生まれ、アジアに対する優越感が強まったんだ。」



- ア A イギリス B 平塚らいてう C フランス
- イ A イギリス B 与謝野晶子 C アメリカ
- ウ A フランス B 平塚らいてう C アメリカ
- エ A フランス B 与謝野晶子 C イギリス

3 以下のIの写真、IIの表は、冬休みの課題として、世界の国々で栽培される作物に関して調べ学習を行った際に、ある生徒が資料として提示したものである。これらに関して、あとの(1)~(5)の問いに答えなさい。

I 以下の4枚の写真は、茶、ジュート、コーヒー豆、さとうきびの4種類の農作物に関連した写真である。



II 以下の4つの表は、Iの作物の生産量の多い国をそれぞれまとめたものである。

E.			F.			G.			H.		
2013	千トン	%	2013	千トン	%	2014	万トン	%	2013	千トン	%
(Y)	1 924	36.0	(Z)	2 965	33.2	(Z)	73 716	38.8	(X)	1 944	56.8
(X)	1 209	22.6	ベトナム	1 461	16.4	(X)	35 214	18.5	バングラデシュ	1 391	40.6
ケニア	432	8.1	インドネシア	699	7.8	(Y)	12 561	6.6	(Y)	36	1.0
スリランカ	340	6.4	コロンビア	653	7.3	タイ	10 370	5.5	ウズベキスタン	21	0.6
ベトナム	214	4.0	(X)	318	3.6	パキスタン	6 746	3.6	ネパール	16	0.5
トルコ	212	4.0	ホンジュラス	273	3.1	メキシコ	5 667	3.0	スーダン	3	0.1
イラン	160	3.0	エチオピア	270	3.0	コロンビア	3 816	2.0	エジプト	3	0.1
インドネシア	148	2.8	ペルー	256	2.9	フィリピン	3 246	1.7	ジンバブエ	3	0.1
アルゼンチン	105	2.0	グアテマラ	253	2.8	オーストラリア	3 052	1.6	ミャンマー	2	0.1
日本	85	1.6	メキシコ	232	2.6	インドネシア	2 860	1.5	タイ	2	0.1
世界計	5 346	100.0	世界計	8 921	100.0	世界計	189 999	100.0	世界計	3 423	100.0

(1) Iの写真Dに該当する農作物の生産量をまとめた表と、IIのZに該当する国名の組み合わせとして、最も適当なものを、次のア〜クの中から1つ選んで、そのかな符号を書きなさい。

- ア 表 E, Z アメリカ イ 表 F, Z アメリカ ウ 表 G, Z ブラジル
 エ 表 H, Z ブラジル オ 表 E, Z 中国 カ 表 F, Z 中国
 キ 表 G, Z インド ク 表 H, Z インド

(2) 表II中のYに該当する国の首都の位置をあらわした座標として最も適当なものを、次のア〜エの中から1つ選んで、そのかな符号を書きなさい。

- ア 北緯39度 東経116度 イ 北緯28度 東経77度
 ウ 南緯15度 西経47度 エ 北緯38度 西経77度

(3) 以下は、Xに該当する国の補足説明として、生徒がその特徴を紹介した文章である。空欄A・Bに当てはまる語句の組み合わせとして、最も適当なものを、次のア〜カの中から1つ選んで、そのかな符号を書きなさい。

Xの急速な成長を支えてきたのは英語や数学の教育水準の高さです。その点を活かし、南部のバンガロールなどで(A)産業が盛んです。また、(B)の関係性を活かしてうまく仕事を引き継ぐことができるため、アメリカの企業がXにコールセンターをおくなどして進出しています。

- ア A 航空技術, B 宗教 イ A 情報技術, B 時差 ウ A 石油化学, B 宗教
 エ A 航空技術, B 時差 オ A 情報技術, B 宗教 カ A 石油化学, B 時差

(4) IIの表Fに表される農作物に関して、ベトナムの生産量が多い要因として、ある国の植民地支配を受けてきた歴史が関係している。その国名として最も適当なものを、次のア〜オの中から1つ選んで、そのかな符号を書きなさい。

- ア スペイン イ ポルトガル ウ フランス エ イギリス オ アメリカ

(5) Iの作物の多くは、商品作物として大規模な農園で生産されている例が多い。その大農園の呼称をカタカナで書きなさい。

4 以下は生徒が中国・四国地方の町おこしについて調べたものである。この資料をもとにして発表を行った。あとの(1)~(4)の問いに答えなさい。

I 4つのまちにおける町おこしの事例を紹介した文章である。

A.

上勝町では「葉っぱビジネス」が注目を集めています。高齢化が進む限界集落において、料理の飾りとなる季節の葉や花を出荷する、「いろどり」の事業がまちを活性化させています。研修のために多くの若者が訪れています。

B.

境港市では漫画のキャラクターを活用した町おこしを行っています。「ゲゲゲの鬼太郎」の作者である、水木しげるさんがこの町の出身だったことから、記念館や妖怪のオブジェを街中に設置し、観光客を集めています。

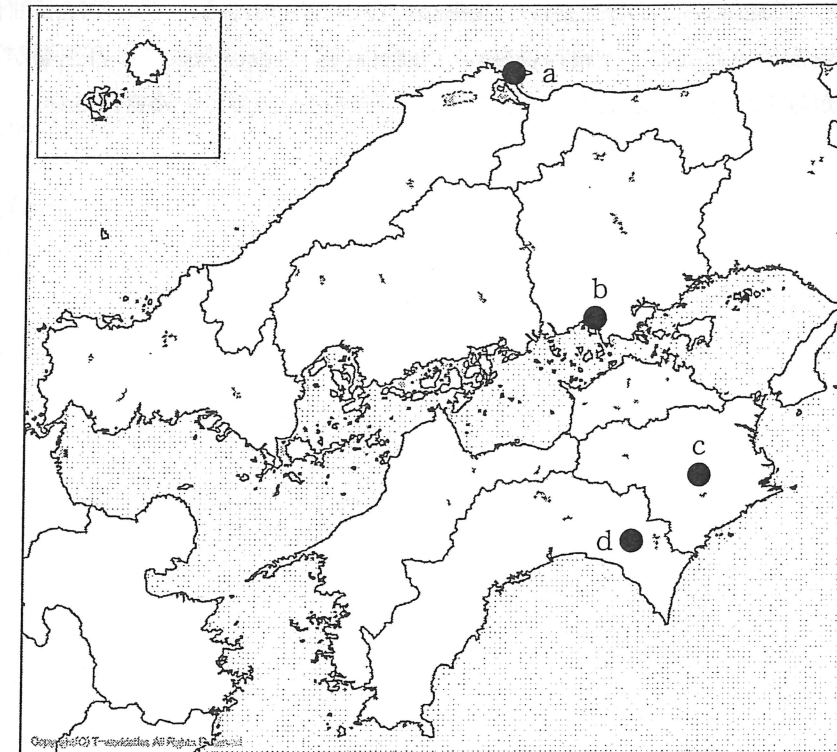
C.

倉敷市は「ジーンズのまち」として有名です。日本のジーンズ生産の中心地として古くから栄えてきました。街中には、ジーンズ柄の自動販売機や、ジーンズ色のアイスを販売するなど、そのイメージを前面に押し出して町おこしにつながっています。

D.

馬路村は村民約900人の小さな山村ですが、村民の半数がゆず栽培に携わる「ゆずの村」です。県全体でもゆずの生産量が日本一と多いのですが、この村では生産から商品開発・加工・販売まで全てを行い、ブランド化に成功して、観光客も集めています。

II 以下の図は、中国四国地方の地図に、IのA~Dのまちの位置をあらわしたものである。



(1) IIの図中のa～dの中で、IのC・Dそれぞれの位置を表したものの組み合わせとして、最も適当なものを、次のア～クの中から1つ選んで、そのかな符号を書きなさい。

- ア C a, D b イ C a, D c ウ C b, D c
エ C b, D d オ C c, D d カ C c, D a
キ C d, D a ク C d, D b

(2) AやDといった山間部の小さなまちでは、人口の減少と高齢化が進んでおり、経済活動が衰え、地域社会を維持することが困難な状態がみられる。その状態を打開する方法のひとつとして町おこしがあるが、このような状態の事を漢字2文字で書きなさい。

(3) 以下は、A～Dのまちがある県の観光地について紹介した文章である。説明として誤っているものを、次のア～エの中から1つ選んで、そのかな符号を書きなさい。

- ア Aの県では、四国と本州を結ぶ大鳴門橋付近で珍しい渦潮がみられ、多くの観光客を集めています。
イ Bの県では、大規模な砂丘がみられ、付近で栽培されるメロンやらっきょうも生産量が多く人気です。
ウ Cの県では、世界文化遺産にも登録されている石見銀山があり、日本の産業発展の歴史を感じることができます。
エ Dの県では、よさこい祭りという50年の歴史を誇る伝統的な祭りがあり、全国から多くの人を集めています。

(4) Cは瀬戸内工業地域における主要な工業都市のひとつでもある。ここでは石油化学に関連して、生産性を高めるために、原料の供給から燃料供給、製品生産までの各工場が互いに結合した工業地帯がみられる。この工業地帯をあらわす語句をカタカナで書きなさい。

5 次の文章は生徒が憲法についてまとめたものである。あとの(1)～(4)の問いに答えなさい。

- I 日本国憲法では、天皇は主権者ではなく、日本国と日本国民統合の「象徴」となりました。天皇は、国の政治についての権限を持たず、憲法に定められている(A)のみ行います。
II 2015(平成27)年には日本と密接な関係にある国が攻撃を受け、日本の存立がおびやかされた場合には、(B)を行使できるとする法改正が行われました。これに対して日本国憲法9条で認められている自衛の範囲を越えているのではないかとという反対意見もあります。
III 社会権で基本となるのが「健康で文化的な最低限度の生活を営む権利」である(C)権です。
IV 日本国憲法には社会全体の利益を意味するD「公共の福祉」という言葉で表現している。
V 憲法改正原案が国会に提出されると、衆議院と参議院で審議されます。それぞれ総議員の3分の2以上の賛成で可決されると、国会は国民に対して憲法改正の発議をします。その後、その改正案について、満20歳以上の国民による投票が行われ、の賛成を得ると、憲法が改正されます。

(1) I・IIの文章の(A) (B)にあてはまることばの組み合わせとして最も適当なものを、下のア～エの中から1つ選んで、そのかな符号を書きなさい。

- ア A 国事行為, B 集団的自衛権 イ A 国事行為, B 個別的自衛権
ウ A 文民統制, B 個別的自衛権 エ A 文民統制, B 集団的自衛権

(2) IIIの文章の(C)にあてはまることばを漢字2文字で書きなさい。

(3) IVの文章のD「公共の福祉」による人権を制限する例として誤っているものを、次のア～エの中から1つ選んで、そのかな符号を書きなさい。

- ア 感染の拡大を防ぐために感染症の患者を入院させる措置は認められている。
イ 他人の名誉を傷つける行為は表現の自由が優先される。
ウ 企業の価格協定は公正な競争を守るために禁止されている。
エ 不備な建築物に関しては周辺の住民等の危険を防止するため規制がある。

(4) Vの文章のにあてはまることばとして最も適当なものを、次のア～エの中から1つ選んで、そのかな符号を書きなさい。

- ア 有効投票の過半数 イ 有効投票の3分の2
ウ 有権者の過半数 エ 有権者の3分の2

- 6 次の文章は、生徒たちが自分たちの身近な社会問題にまとめたものである。あとの(1)~(4)の問いに答えなさい。


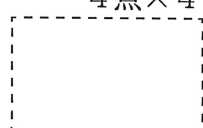




- I 今日では途上国のなかでも、特に急速に経済成長する新興国が現れています。2000年代には資源を豊富に持ち、①急速に経済成長するBRICSとよばれる国々が出てきました。
- II 現在のミャンマーでは、イスラム系の住民である②ロヒンギャに対する迫害が続いている。
- III 2016年6月23日のイギリス国民投票で、一時は残留多数であったものの最終的には離脱派が残留派を上回り、イギリスの③EU離脱が決まりました。
- IV アメリカにトランプ新大統領が登場し、④環太平洋経済連携協定からの離脱を発表しました。

- (1) ①急速に経済成長するBRICSについて述べた文として最も適当なものを、次のア~エの中から1つ選んで、そのかな符号を書きなさい。
- ア 韓国、台湾、ホンコン、シンガポールなどの国々のことである。
- イ 1960年代に以降に急速に工業化が進んだ国々のことである。
- ウ 四小龍（フォードラゴンズ）と呼ばれた国々のことである。
- エ ブラジル、ロシア連邦、インド、中国、南アフリカ共和国の国々のことである。
- (2) ②ロヒンギャのように迫害などをうけ、住んでいた土地を離れて、周辺国などへと逃げる人たちのことを、漢字2文字で書きなさい。
- (3) ③EUについて述べた文として誤っているものを、次のア~エの中から1つ選んで、そのかな符号を書きなさい。
- ア 第二次世界大戦後、ヨーロッパでは、戦争を再び起こさないようにするために、経済関係を中心にヨーロッパの統合を目指す動きが起こった。
- イ 経済面では、中央銀行がつくられ、一部の加盟国は自国の通貨を廃止してユーロという共通通貨を導入した。
- ウ 発足以来、EU加盟国はまったく増えていない。
- エ 2010年にはギリシアの財政危機をきっかけにユーロの為替相場が下落した。
- (4) ④環太平洋経済連携協定の略称をアルファベット3文字で書きなさい。

(問題はこれで終わりです。)

解答用紙

第3時限 社 会

1	(1)		(2)		※1 4点×3 
	(3)				
2	(1)		(2)		※2 4点×4 
	(3)		(4)		
3	(1)		(2)		※3 4点×5 
	(3)		(4)		
	(5)				
4	(1)		(2)		※4 4点×4 
	(3)		(4)		
5	(1)		(2)		※5 4点×4 
	(3)		(4)		
6	(1)		(2)		※6 5点×4 
	(3)		(4)		

受験番号	第	番	氏 名		得 点	※
------	---	---	-----	--	-----	---

(注) ※印欄には何も書かないこと。
※100点満点